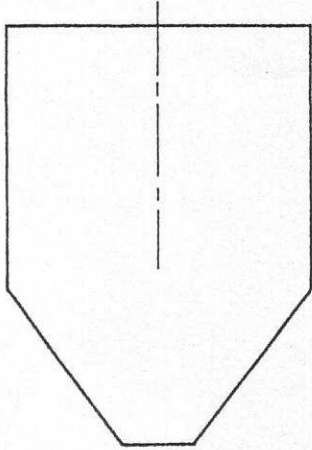
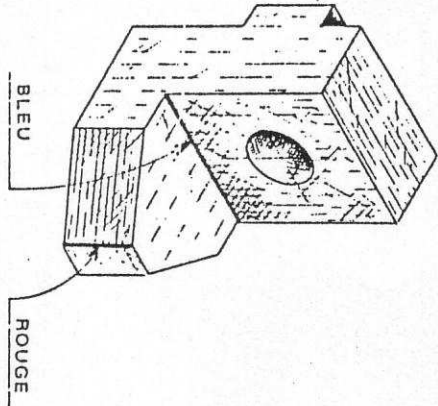
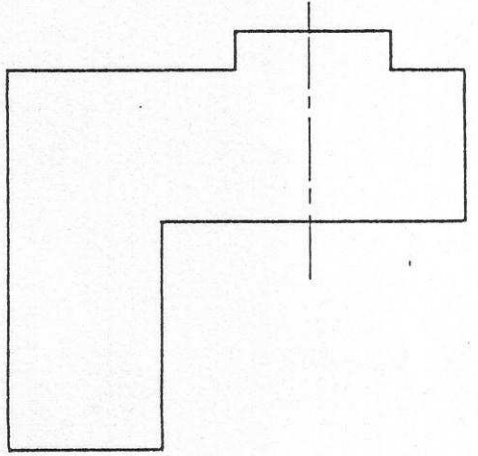
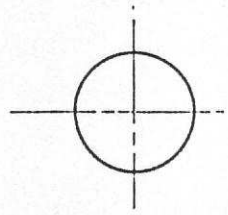


1-



**Données:**  
la vue de face et la vue de dessus  
incomplètes;  
l'amorce de la vue de droite d'une  
butée réglable.

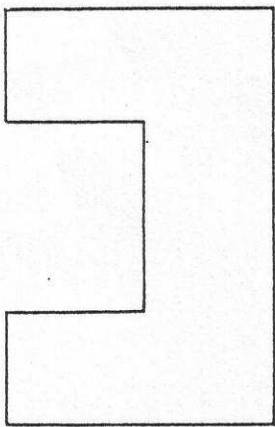
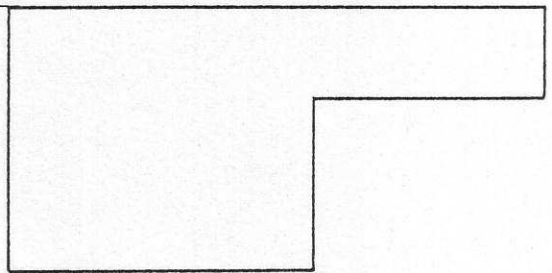
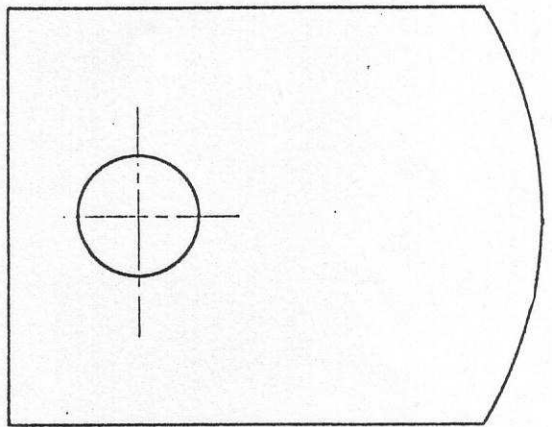
- \* avec :  
- Vue de face coupe A-A  
- Vue de dessus  
- Vue de droite

**EXERCICE:**

- 1) Esquisser le rectangle capable de la vue de droite.
- 2) Esquisser les différents détails sur les trois vues.
- 3) Faire la mise au net. \*
- 4) Repasser en couleur les arêtes repérées sur la perspective.

①

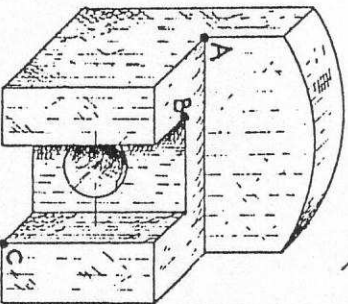
2-



**Données:**  
la vue de face, la vue de gauche et la vue de dessus  
incomplètes d'un porte-outil d'étau-limeur.

**EXERCICE:**

- Esquisser les détails sur toutes les vues.  
Faire la mise au net.  
Repérer les points A-B et C sur les 3 vues



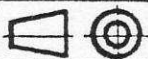
②



282,  
ROUTE DE GENAS  
69500 BRON



Echelle: 1/5:1 et 1/2



le: \_\_\_\_\_

Nom: \_\_\_\_\_


1- BUTÉE RÉGLABLE

Classe: \_\_\_\_\_

2- PORTE-OUTIL

N° \_\_\_\_\_

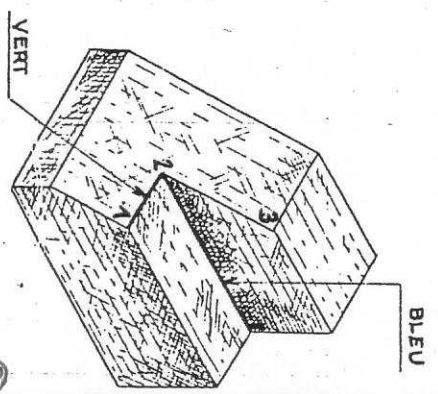
1



**Données :**  
 la vue de face, la vue de gauche incomplètes,  
 l'amorce de la vue de dessus d'une butée.

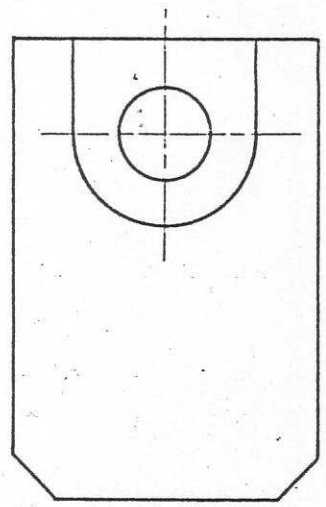
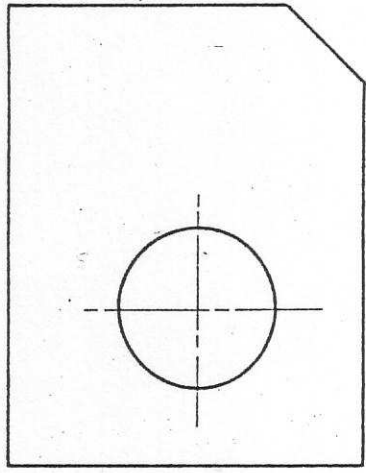
**EXERCICE :**

Esquisser le rectangle capable de la vue de dessus.  
 Esquisser les détails sur toutes les vues.  
 Faire la mise au net.  
 Repérer les points (1) (2) et (3). Repasser en couleur, sur les trois vues, les arêtes repérées sur la perspective.



3

2

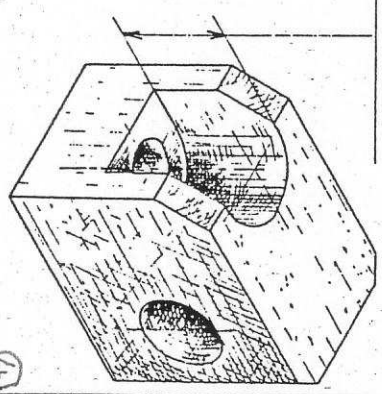


**Données :**  
 la vue de face, la vue de dessus incomplètes,  
 l'amorce de la vue de gauche d'une coulisse orientable.

**EXERCICE :**

Esquisser le rectangle capable de la vue de gauche.  
 Esquisser les détails sur toutes les vues.  
 Faire la mise au net.

PROFONDEUR DU  
 LAMAGE : 25



4



282,  
 ROUTE DE GENAS  
 69500 BRON



Echelle: 1



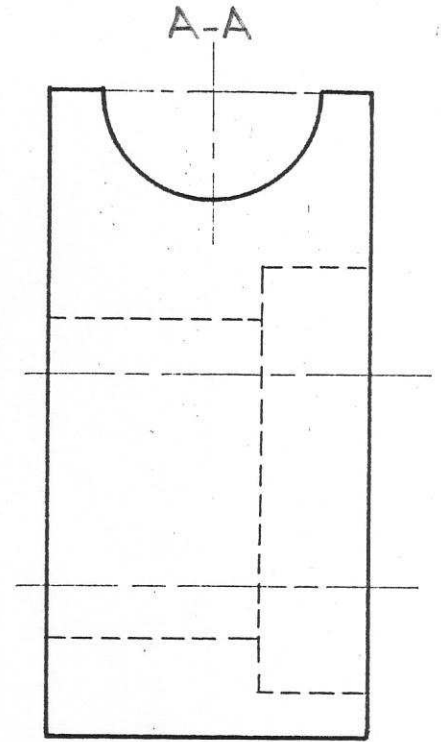
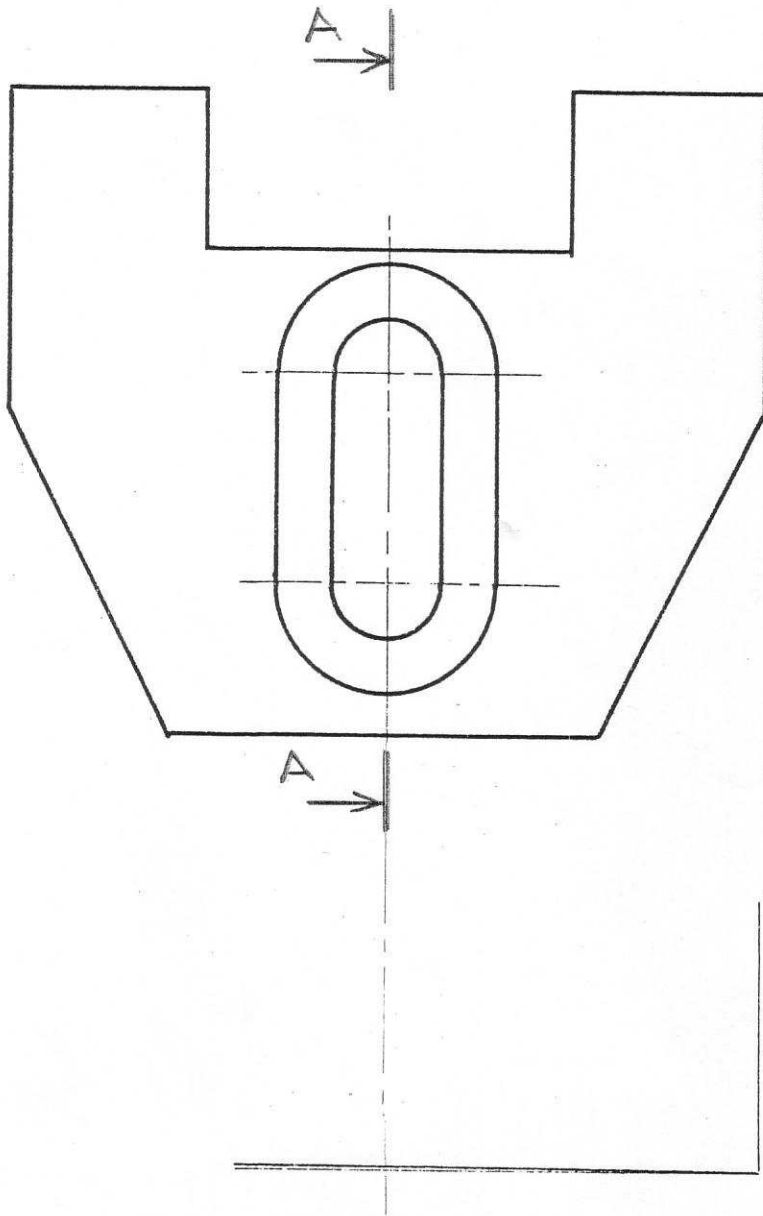
le: \_\_\_\_\_

Nom: \_\_\_\_\_

Exercices sur les correspondances des  
 vues. 1 - ENTAILLE et PLAN INCLINÉ  
 2 - COULISSEAU ORIENTABLE

Classe: \_\_\_\_\_

N° \_\_\_\_\_

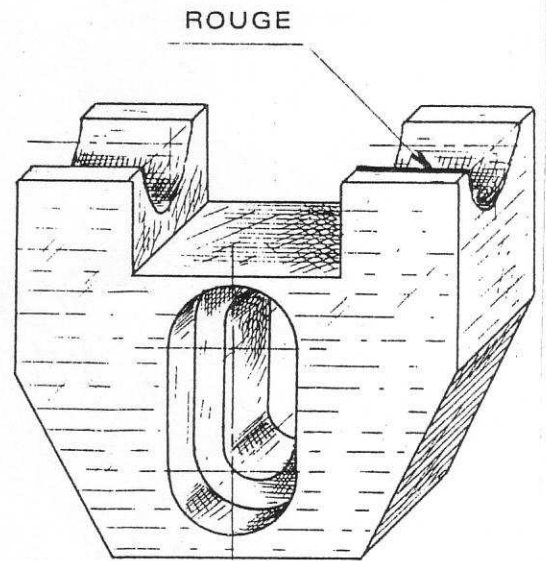


**Données :**

- la vue de face, la vue de gauche incomplètes,
- l'amorce de la vue de dessus d'une semelle.

**EXERCICE :**

- 1) Esquisser le rectangle capable de la vue de dessus.
- 2) Esquisser les détails sur toutes les vues.
- 3) Faire la mise au net.
  - Vue de face
  - Vue de gauche coupe A-A
  - Vue de dessus



⑤

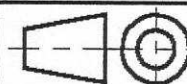
L.P de L'AUTOMOBILE 69675 BRON

Nom : \_\_\_\_\_

Le : \_\_\_\_\_ Ech : 1:1



**SEMELLE**



N° \_\_\_\_\_